

2022年度

尚絅学院高等学校 入学試験問題

社 会

試験時間 (50分)

注 意 事 項

1. 「始め」の合図があるまで問題の表紙を開かないでください。
2. 解答用紙には決められた欄に受験番号のみ記入し、氏名は書かないでください。
3. 解答は必ず解答用紙のそれぞれ決められた欄に記入してください。
4. 印刷が見えにくい場合は、手をあげて監督者の指示に従ってください。
5. 考査が終わったら、解答用紙と問題用紙を別々にしておいてください。
6. その他すべて、監督者の指示に従ってください。

受験番号	
------	--

第一問

[1] 次の文章は、「我が国の人口問題」をテーマに班で調べ学習をした中学生の太郎さんと花子さんの会話である。それらに関する、あとの各問いに答えなさい。

太郎 日本の人口は2008年の1億2,808万人をピークに、翌年から毎年減少してきているそうです。

花子 しかし、2018年からの一年間でみると、1首都圏の人口は増えています。

太郎 特に、2東京都の一年あたりの人口増減率は0.71%増と全国一ですね。

花子 首都圏以外では、3愛知県、4滋賀県、5沖縄県の人口が増えています。*

太郎 その他の地域はどうでしょうか。

花子 県庁所在地が2012年に6政令指定都市となった九州地方の7熊本県でも人口は減少しています。また、8東北地方の5県では2019年からの一年間で1%を超える人口が減少しています。

太郎 昨年の国勢調査結果を見ましたが、岩手県の9釜石市では2015年と2020年を比べると人口減少率が12%を超えています。

花子 かそ過疎化への対策が必要となりますね。

* 2019年は、愛知県と滋賀県が減少。

問1 下線部1に関して、都心の人口が減少し、郊外のニュータウンなどの人口が増加する現象を何というか、答えなさい。

問2 下線部2に関して、東京都の産業の特色について述べた次の文中の に入る数字を答えなさい。

東京都などの大都市には、第 次産業である情報通信産業が集中する傾向が強い。

問3 下線部3に関して、次の表は愛知県で生産の多い輸送用機械の出荷額とレタスの生産量の上位5都道府県を示したものである。表中のXに共通してあてはまる県を、あとのア～エから一つ選び、答えなさい。

順位	輸送用機械 (2018年)
1	愛知県
2	静岡県
3	神奈川県
4	福岡県
5	X

(「データでみる県勢2021」より作成)

順位	レタス (2018年)
1	長野県
2	茨城県
3	X
4	長崎県
5	愛知県

(「データでみる県勢2020」より作成)

- ア 群馬県 イ 富山県 ウ 兵庫県 エ 広島県

問4 下線部4に関して、滋賀県にある琵琶湖^{びわ}について述べた次の文中の に入る語を、カタカナ五字で答えなさい。

日本最大の湖である琵琶湖は1993年に 条約の登録湿地になった。

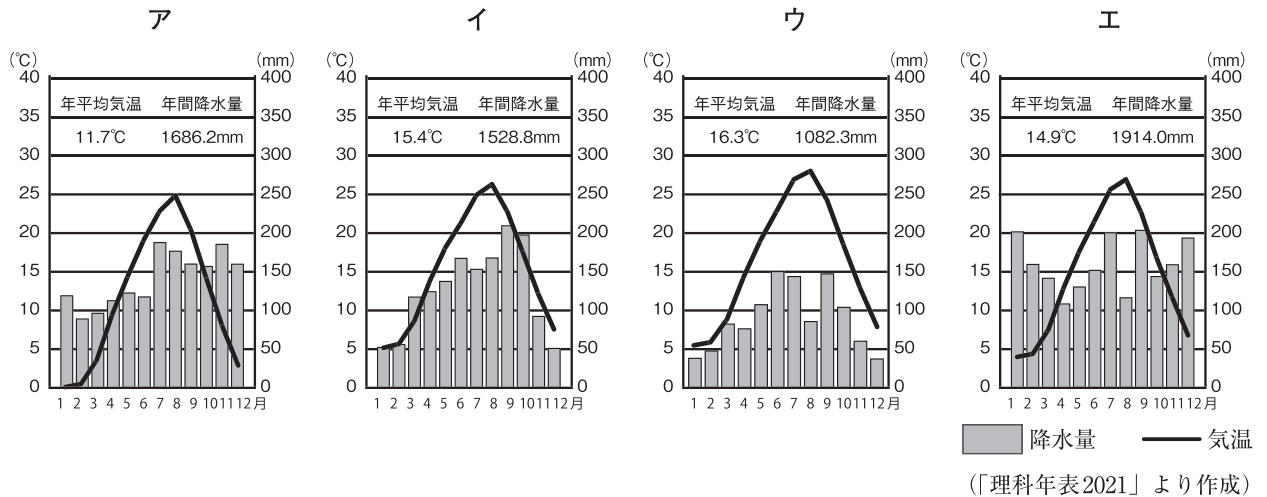
問5 下線部5に関して、次の各文は第二次世界大戦後のおもな出来事である。沖縄県が日本に返還された1972年以後におこった出来事を説明した文として正しいものを、次のア～エから一つ選び、答えなさい。

- ア 第1回原水爆禁止世界大会が広島で開かれた。
- イ 日本のGNPが資本主義国の中で第2位になった。
- ウ 第一次石油危機がおこり、物価が高騰した。
- エ 日ソ共同宣言が調印され、ソ連との国交が回復した。

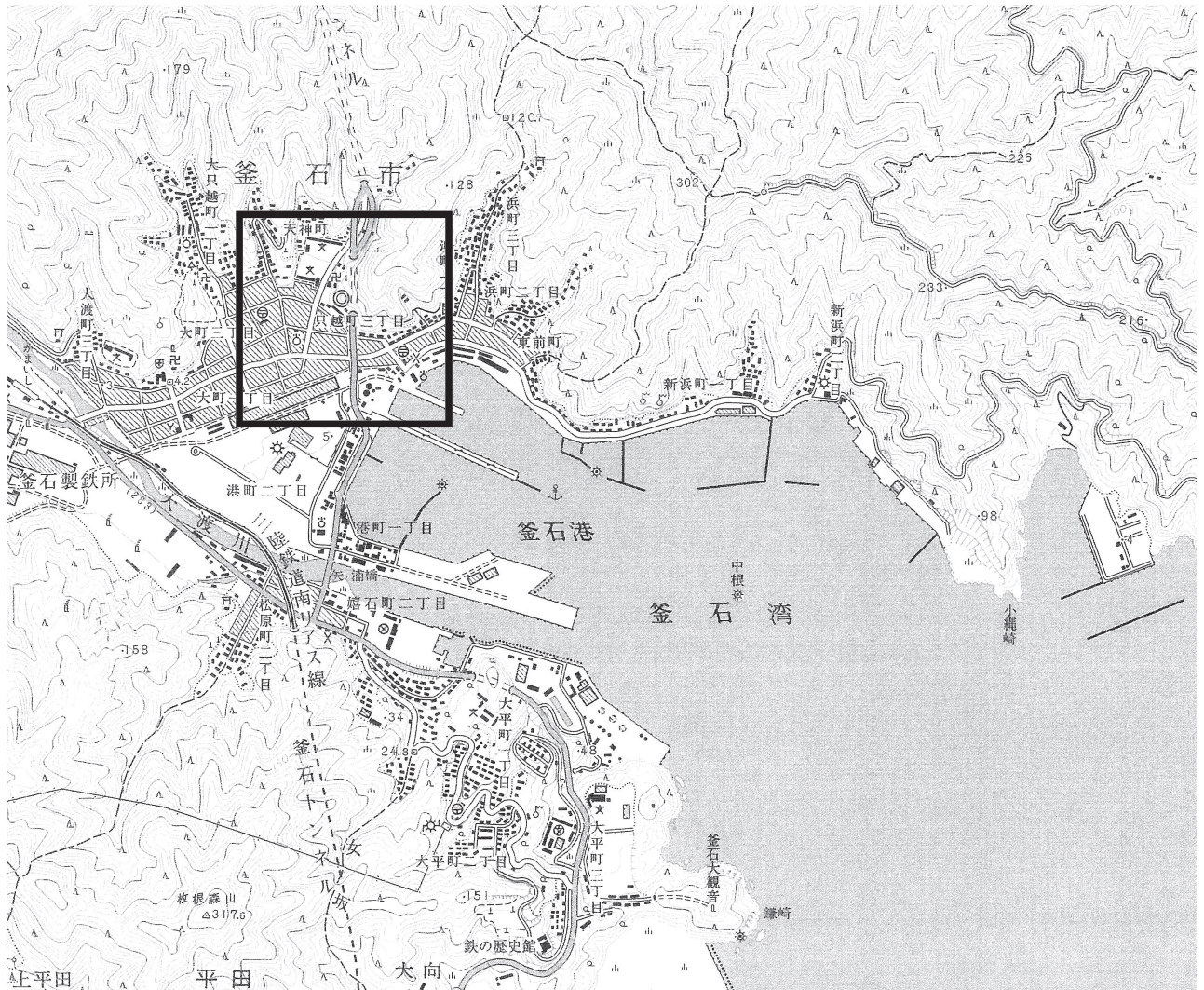
問6 下線部6に関して、中部地方には複数の政令指定都市をかかえる県があるが、その県名を漢字で答えなさい。

問7 下線部7に関して、熊本県の阿蘇山には火山の噴火で火山灰や溶岩がふき出したあとがくぼんでできた地形がみられる。この地形を何とよいか、カタカナで答えなさい。

問8 下線部8に関して、次のグラフは東京、鳥取、高松と東北地方の秋田のいずれかの雨温図を示したものである。秋田にあてはまるものを、次のア～エから一つ選び、記号で答えなさい。



問9 下線部9に関して，次の地形図は岩手県釜石市（国土地理院発行の2万5千分の1地形図）のものである。この地形図を説明したⅠ，Ⅱの文の正誤の組み合わせとして正しいものを，あとのア～エから一つ選び，記号で答えなさい。



Ⅰ 正方形で囲まれた枠の中には，警察署，市役所，官公署，高等学校がある。

Ⅱ 「かまいし」駅から見て，釜石大観音の石碑の位置は南西方向である。

ア Ⅰ－正 Ⅱ－正 イ Ⅰ－正 Ⅱ－誤 ウ Ⅰ－誤 Ⅱ－正 エ Ⅰ－誤 Ⅱ－誤

[2] 次の略地図を見て、あとの各問いに答えなさい。



問10 略地図中のA国について、次の各問いに答えなさい。

- (1) A国の住居の特徴について述べた次の文中の に入る語を、漢字四字で答えなさい。

A国の特に寒い地域では高床の建物がみられます。これは と呼ばれる一年中凍ったままの土がとけることをさけるためのものです。

- (2) 次の表は、A国、日本、フランス、D国の貿易相手国上位3国を輸入額・輸出額別に示したものである。A国とD国を示したものの組み合わせとして正しいものを、あとのア～カから一つ選び、記号で答えなさい。

1		2		3		4	
輸出	輸入	輸出	輸入	輸出	輸入	輸出	輸入
中国	中国	ドイツ	ドイツ	中国	中国	中国	中国
オランダ	ドイツ	アメリカ合衆国	ベルギー	アメリカ合衆国	アメリカ合衆国	アメリカ合衆国	アメリカ合衆国
ドイツ	アメリカ合衆国	スペイン	オランダ	韓国	オーストラリア	アルゼンチン	アルゼンチン

(「世界国勢図会2020/21」より作成)

- ア A国-1 D国-2 イ A国-1 D国-3
 ウ A国-1 D国-4 エ A国-2 D国-1
 オ A国-2 D国-3 カ A国-2 D国-4

問11 略地図中のB国について、次の各問いに答えなさい。

- (1) B国の農業地域について述べた次の文中の (①), (②) に入る語の組み合わせとして正しいものを、あとのア～エから一つ選び、記号で答えなさい。

(①) では主に綿花が栽培され、降水量の多い (②) 川下流では主に稲作が盛んに行われています。

- ア ①-デカン高原 ②-インダス イ ①-デカン高原 ②-ガンジス
 ウ ①-ヒンドスタン平原 ②-インダス エ ①-ヒンドスタン平原 ②-ガンジス

- (2) 次の表は、**B国**、中国、ナイジェリア、日本の2030年から2050年にかけての予想年平均人口増加率(%)を示したものである。**B国**と中国にあてはまる組み合わせとして正しいものを、あとのア～カから一つ選び、記号で答えなさい。

1	2	3	4
-0.66	2.14	0.43	-0.22

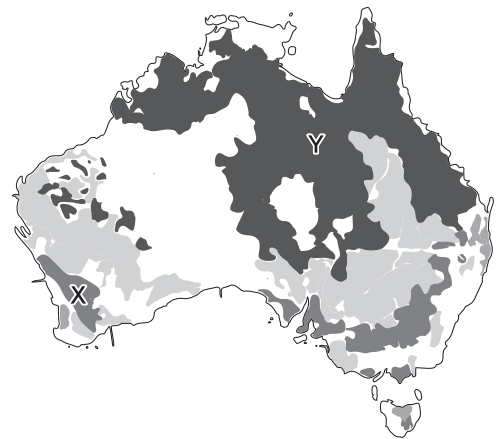
(「世界国勢図会2020/21」より作成)

- ア **B国**-1 中国-2 イ **B国**-2 中国-1 ウ **B国**-2 中国-3
 エ **B国**-3 中国-1 オ **B国**-3 中国-2 カ **B国**-3 中国-4

問12 略地図中の**C国**について、次の各問いに答えなさい。

- (1) 右の資料は、**C国**の農業地域を示している。地図中のX、Yで示した地域でさかんな農業は何か、次のア～エから選び、記号で答えなさい。

- ア さとうきび イ 牧牛
 ウ 酪農 エ 小麦



(「ジャカラング地図帳」2007年版他より作成)

- (2) **C国**の鉱産業にはある特徴がみられる。その特徴について述べた次の文中の に入る語句を答えなさい。

C国では鉱産物を地表から直接けずり取りながらうずを巻くようにして地下に掘り進む が行われている。

問13 略地図中の**D国**について、次の各問いに答えなさい。

- (1) 日本時間で8月2日午後9時に、**D国**の最大都市サンパウロに向けて成田空港から飛行機で出発し、アメリカ合衆国経由で合計22時間かけてサンパウロに到着した。サンパウロの到着は現地時刻の8月何日の何時か、午前・午後のどちらかに○を付け、日付と時刻を答えなさい。なお、サンパウロの標準時子午線は西経45度とし、サマータイムは考えないものとする。

- (2) **D国**では農業がさかんである。**D国**で行われている農業について述べた次の文中の に入る語句を、カタカナで答えなさい。

この国では植民地時代からさとうきびの栽培がさかんである。このさとうきびから、石油に代わるエネルギー源として使用されている が生産されている。

第二問

桜さんのクラスでは社会科の歴史的分野の授業で、班別に歴史に関するテーマを分担し調べるようになった。次のスライドは、それぞれの班が調べた内容について発表したときに使用したものの一部である。あとの各問いに答えなさい。

A班	弥生から古墳時代の資料 ・魏志倭人伝 ・江田船山古墳出土の鉄刀	B班	奈良の人々の暮らし ・荷札としての木簡 ・班田収授法と口分田	C班	東北地方の浄土教文化 ・毛越寺 ・中尊寺
D班	南北朝の動乱と室町幕府 ・足利尊氏と室町幕府 ・応仁の乱と一向一揆	E班	安土桃山時代の人物 ・豊臣秀吉	F班	江戸時代の様子 ・各地の諸産業の発達 ・異国船の接近
G班	日本の近代化 ・官営八幡製鉄所 ・大戦景気	H班	大正デモクラシー ・男子普通選挙制度 ・社会運動の広まり	I班	世界恐慌と世界 ・日本への影響 ・世界への影響

問1 A班のスライドについて、次の各問いに答えなさい。

- (1) 次の資料は、この時代の日本についての記述がある「魏志倭人伝」の一部である。次の文中の に入る語を答えなさい。

にはもともと男の王がいたが、その後国内が乱れたのでひとりの女子を王とした。

- (2) 江田船山古墳出土の鉄刀には「ワカタケル大王」の名が刻まれており、稲荷山古墳出土の鉄剣にも同じ名が刻まれている。このことから考えられることとして最も適切なものを、次のア～エから一つ選び、記号で答えなさい。

- ア 大和政権は、百済や伽耶地域の国々と結んで、高句麗と戦った。
イ 倭の王としての地位を認めてもらうために、中国の皇帝に使いを送った。
ウ 大和政権の王は九州地方から、関東地方までの豪族を従えていた。
エ 朝鮮半島から日本列島に、一族でまとまって住む渡来人が増えた。

問2 B班のスライドについて、次の各問いに答えなさい。

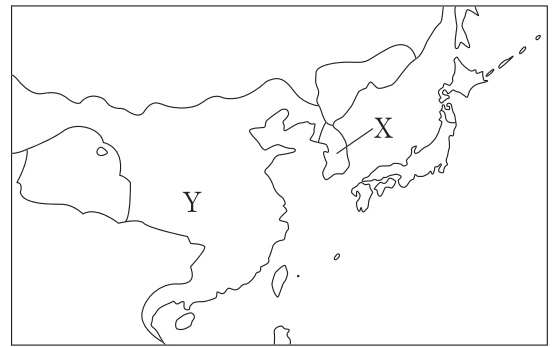
- (1) 奈良時代の遺跡からは、多くの木簡が出土しており、奈良文化財研究所には安房国から送られたアワビの荷札として使用された木簡が所蔵されている。この木簡に関係が深いこの時代の税として正しいものを、次のア～エから一つ選び、記号で答えなさい。

ア 租 イ 調 ウ 庸 エ 雑徭

- (2) この時代、朝廷は口分田の不足を解消するために、743年には法律で、新しく開墾した土地については私有を認めることとした。この法律を何というか、答えなさい。

- (3) 右の地図は、8世紀の東アジアを示している。X、Yの国名の組み合わせとして正しいものを、あとのア～エから一つ選び、記号で答えなさい。

- ア X－高麗 Y－宋
 イ X－高麗 Y－唐
 ウ X－新羅 Y－唐
 エ X－新羅 Y－宋



- 問3 C班のスライドについて、江戸時代に、松尾芭蕉がこれらの寺院のある土地を旅した際によんだ俳句として正しいものを、次のア～エから一つ選び、記号で答えなさい。

- ア 閑さや 岩にしみ入る 蟬の声
 イ 夏草や 兵どもが 夢の跡
 ウ 古池や 蛙飛びこむ 水の音
 エ 五月雨を 集めてはやし 最上川

- 問4 D班のスライドについて、次の各問いに答えなさい。

- (1) 次の文は、南北朝の動乱期に活躍した足利尊氏について述べた文である。文中の(A), (B)に入る語の組み合わせとして正しいものを、あとのア～エから一つ選び、記号で答えなさい。

足利尊氏は1338年に(A)朝から征夷大將軍に任命されて京都に幕府を開くと、(B)の権限を強め、全国の武士をまとめようとした。

- ア A－北 B－守護 イ A－北 B－地頭
 ウ A－南 B－守護 エ A－南 B－地頭

- (2) 次の文は、応仁の乱の影響について述べた文である。文中の□に入る語句を漢字三字で答えなさい。

応仁の乱以降、幕府の力は衰え、地方の武士や地方の民衆が力を伸ばし、実力のある者が、力を伸ばして上の身分の者に打ち勝つ□の風潮が広がった。

- 問5 E班のスライドについて、次のa～cは、豊臣秀吉に関することがらである。年代の古い順に正しく並べているものを、あとのア～カから一つ選び、記号で答えなさい。

- a 太閤検地を始める。
 b 刀狩令を出す。
 c 全国を統一する。

- ア a→b→c イ a→c→b ウ b→a→c
 エ b→c→a オ c→a→b カ c→b→a

問6 F班のスライドについて、次の各問いに答えなさい。

- (1) この時代には諸産業が発達し、鉱山の開発が進んだ。主に銅の採掘が行われた場所として正しいものを、次のア～エから一つ選び、記号で答えなさい。

ア 生野 イ 別子 ウ 佐渡 エ 石見

- (2) 次の文は、異国船の接近に対して江戸幕府がとった政策について述べた文である。文中の に入る文章として正しいものを、あとのア～エから一つ選び、記号で答えなさい。

水野忠邦は、 ことを知ると、異国船打払令を緩和した。

- ア ロシアが南下し、清の東北部へ進出してきた
 イ インド大反乱が、イギリスによっておさえられた
 ウ アヘン戦争で、清がイギリスに敗れた
 エ 長州藩が、関門海峡を通過する外国船に砲撃した

問7 G班のスライドについて、次の各問いに答えなさい。

- (1) 次の文は、官営八幡製鉄所について述べた文である。文中の (A), (B) に入る語の組み合わせとして正しいものを、あとのア～エから一つ選び、記号で答えなさい。

官営八幡製鉄所は (A) で得られた賠償金をもとに、現在の (B) 市に建設され、日本の重化学工業発展の基礎となった。

- ア A - 日露戦争 B - 福岡 イ A - 日露戦争 B - 北九州
 ウ A - 日清戦争 B - 福岡 エ A - 日清戦争 B - 北九州

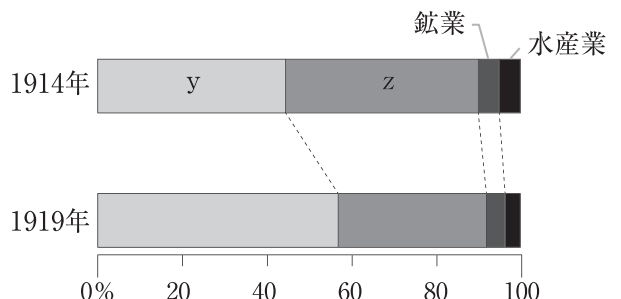
- (2) 次の表は第一次世界大戦期の日本の貿易額の推移、グラフは第一次世界大戦前後の産業別生産額割合を示したものである。表中の w, x には輸入額か輸出額、グラフ中の y, z には工業か農業があてはまる。輸入額と工業にあたるものの組み合わせとして正しいものを、あとのア～エから一つ選び、記号で答えなさい。

表 第一次世界大戦期の日本の貿易額の推移 (百万円)

年	w	x
1914	591	596
1915	708	532
1916	1,127	756
1917	1,603	1,036
1918	1,962	1,668
1919	2,099	2,173

(「数字で見る日本の100年」から作成)

グラフ 第一次世界大戦前後の産業別生産割合



(「日本資本主義発達史年表」から作成)

- ア w - 輸入額 y - 工業 イ w - 輸入額 z - 工業
 ウ x - 輸入額 y - 工業 エ x - 輸入額 z - 工業

問8 H班のスライドについて、次の各問いに答えなさい。

- (1) 次の文は、男子普通選挙制度を成立させた内閣について述べた文である。文中の (A), (B) に入る語の組み合わせとして正しいものを、あとのア～エから一つ選び、記号で答えなさい。

(A) 内閣は、1925年に (B) を制定し、共産主義に対する取りしまりが強化された。

- ア A - 加藤高明 B - 治安警察法 イ A - 加藤高明 B - 治安維持法
ウ A - 犬養毅 B - 治安警察法 エ A - 犬養毅 B - 治安維持法

- (2) この時代には社会運動が広まり、さまざまな差別からの解放をめざす組織が結成された。このうち、1922年に結成された、部落差別からの解放をめざす組織を何というか、答えなさい。

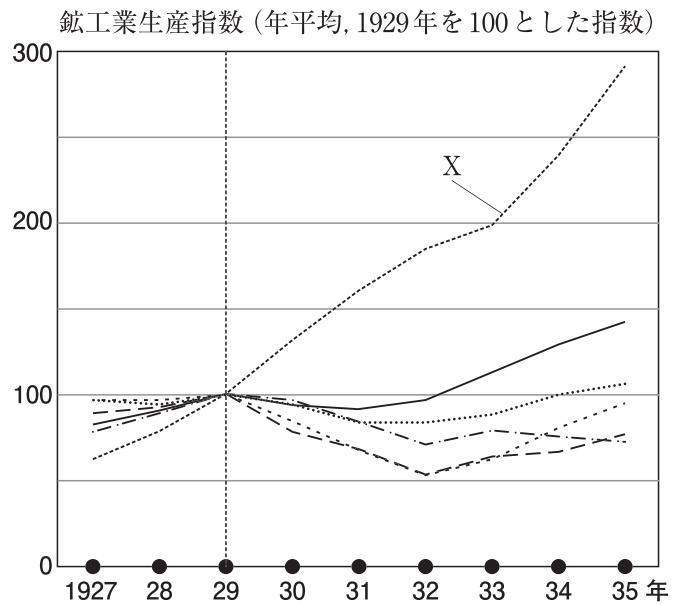
問9 I班のスライドについて、次の各問いに答えなさい。

- (1) 次の文は、世界恐慌の影響で発生した昭和恐慌後の日本の政治について述べた文である。文中の (A), (B) に入る語の組み合わせとして正しいものを、あとのア～エから一つ選び、記号で答えなさい。

政府は1930年に (A) 軍縮会議に参加し、軍縮条約を結んだ。一部の軍人や国粹主義者たちはこれを天皇の (B) 権の侵害であるとして浜口雄幸首相をおそった。

- ア A - ワシントン B - 統帥 イ A - ワシントン B - 外交
ウ A - ロンドン B - 統帥 エ A - ロンドン B - 外交

- (2) 次のグラフは、世界恐慌が発生した1929年を100としたおもな国の鉱工業指数の推移を示したものである。Xはどの国か、その国名を答えなさい。



第三問

清さんのクラスでは社会科の公民的分野の授業で班別で調べることになった。下の表はそれぞれの班が調べたテーマをまとめた表である。あとの各問いに答えなさい。

問1 A班のテーマに関して、次の各問いに答えなさい。

- (1) 次の資料は、A班が人権の確立の歴史について説明するために使用した資料の一部である。国王の専制政治を倒した革命の中で定められたこの資料の名称を答えなさい。

第1条 人は生まれながらに、自由で
 な権利を持つ。
 第3条 主権の源は、もともと国民の中にある。

班	テーマ
A班	人権確立の歴史
B班	トラブルの解決
C班	内閣と行政改革
D班	日本の司法制度
E班	消費者保護
F班	財政の課題
G班	地域経済統合
H班	日本の外交政策

- (2) 上の資料中の に入る語を漢字二字で答えなさい。

問2 B班のテーマに関して、次の各問いに答えなさい。

- (1) 次の資料は、B班がトラブルの解決について説明するために作成したものである。資料中の に入る語を漢字二字で答えなさい。

みんなが納得できる解決策を作るには、少ない時間でたくさんのことを行うことを意味する に配慮することが大切です。

- (2) 次の資料は、B班がルールを決める方法である全会一致と多数決、第三者が一人で決める場合の長所と短所を説明するために作成した表である。表中のX, Yに入る内容の組み合わせとして正しいものを、あとのア～エから一つ選び、記号で答えなさい。

決定的方法	長所	短所
全会一致	X	Y
多数決		
第三者が一人で決める		

- ア X－みんなが納得する Y－決定に時間がかからない
 イ X－みんなが納得する Y－決定に時間がかかることもある
 ウ X－一定時間内で決定できる Y－少数意見が反映されにくい
 エ X－一定時間内で決定できる Y－みんなの意見が反映されにくい

問3 C班のテーマに関して、次の各問いに答えなさい。

(1) 次の事項のうち、内閣の仕事として正しいものはいくつあるか、数字で答えなさい。

弾劾裁判所の設置 憲法改正の発議 政令の制定 条約の締結 国会の召集

(2) 次の資料は、C班が行政権について説明するために作成したものである。資料中の に入る語を、三字で答えなさい。

内閣の役割のあり方についての考えにはいくつもあります。そのうち、社会保障や教育など、さまざまな仕事を行うべきだという考え方を 政府といいます。

問4 D班のテーマに関して、次の各問いに答えなさい。

(1) 次の資料は、D班が裁判官の発行する令状について説明するために作成したものである。資料中の に入る語を、あとのア～エから一つ選び、記号で答えなさい。

警察は裁判官の出す令状がなければ、原則として人を逮捕することはできない。これに最も関係のある基本的人権は である。

ア 自由権 イ 平等権 ウ 社会権 エ 参政権

(2) 2006年に全ての都道府県に設立された、どこでも法律に関する情報を手に入れ、法律相談や弁護士費用のたてかえなどを行う日本司法支援センターの通称は何か、答えなさい。

問5 E班のテーマに関して、次の各問いに答えなさい。

(1) 右の資料は、E班が消費者の四つの権利について説明するために使用したものである。この権利をはじめて明確にかかげたアメリカ合衆国大統領は誰か、次のア～エから一つ選び、記号で答えなさい。

ア リンカン イ ローズベルト
ウ ケネディ エ ブッシュ

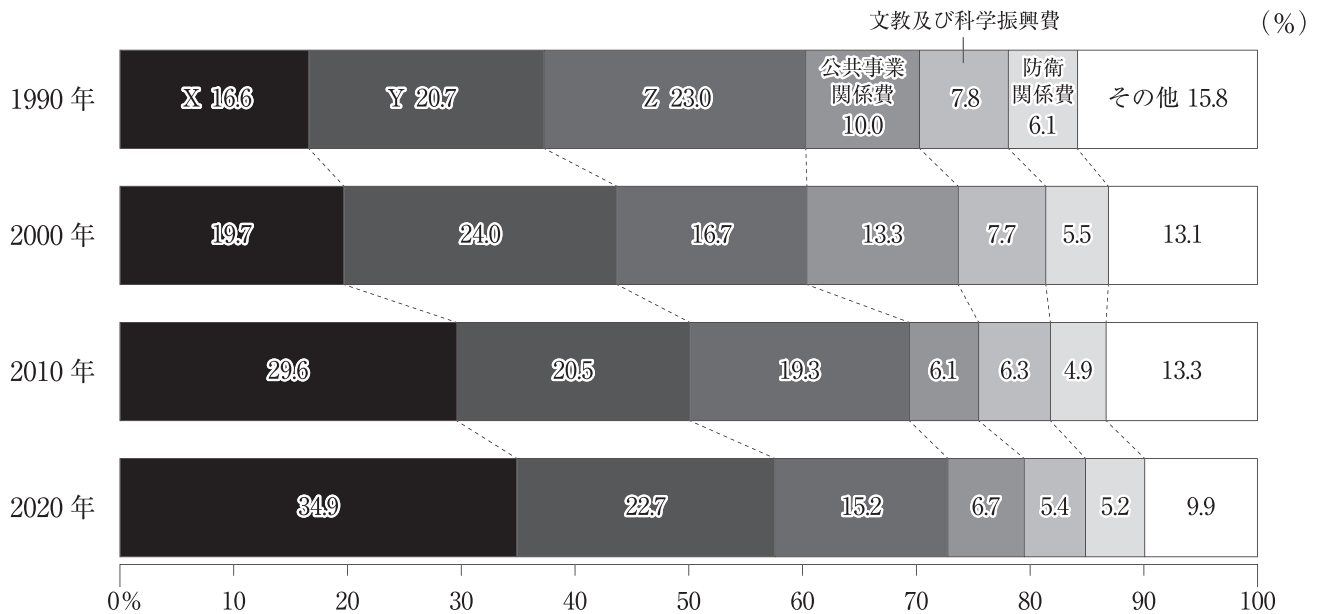
安全を求める権利
選択する権利
知らされる権利
意見を反映させる権利

(2) 右の資料は、E班が消費者保護のために設けられたある制度を説明するために作成したものである。その制度の名称をカタカナで答えなさい。

契約解除通知書
貴社と締結した左記契約の
解除を通知します。
契約年月日 令和〇年〇月〇日
商 品 名 〇〇〇〇
金 額 〇〇万円
支払い代金〇〇万円を返金し、
商品を引き取ってください。
令和〇年〇月〇日
自分の住所 〇〇〇〇〇〇〇〇
自分の氏名 〇〇〇〇〇〇〇〇
代表取締役 〇〇〇〇〇〇
〇〇〇〇 殿

問6 F班のテーマについて、次の各問いに答えなさい。

(1) 次の資料は、F班が日本の財政について説明するために作成した、日本の一般会計支出の主要経費別割合の推移を示した資料である。資料中のX、Y、Zにあてはまるものの組み合わせとして正しいものを、あとのア～カから一つ選び、記号で答えなさい。



(「日本国勢図会2020/21」より作成)

- | | | | |
|---|--------------|--------------|--------------|
| ア | X - 社会保障費 | Y - 国債費 | Z - 地方交付税交付金 |
| イ | X - 社会保障費 | Y - 地方交付税交付金 | Z - 国債費 |
| ウ | X - 国債費 | Y - 社会保障費 | Z - 地方交付税交付金 |
| エ | X - 国債費 | Y - 地方交付税交付金 | Z - 社会保障費 |
| オ | X - 地方交付税交付金 | Y - 国債費 | Z - 社会保障費 |
| カ | X - 地方交付税交付金 | Y - 社会保障費 | Z - 国債費 |

(2) 次の資料はF班が財政収入について説明するために作成したものである。資料中の に入る語を漢字四字で答えなさい。

所得税や法人税には、所得が多くなればなるほど高い税率が適用される の方法がとられている。

問7 G班のテーマについて、次の各問いに答えなさい。

- (1) 次の資料は、G班がテーマについて説明するために使用した資料である。資料中の に入る語を答えなさい。

現在の地域経済統合の動きには、1929年の世界恐慌後イギリスなどが関係の深い国や地域・植民地を囲い込んで成り立たせた の反省をいかし、グローバル化した世界とも共存するよう求められている。

- (2) 次の資料は、G班がEU、NAFTA、ASEANの各地域経済統合について比較したもの（2018年）である。①、②、③の地域経済統合にあてはまるものの組み合わせとして正しいものを、あとのア～カから一つ選び、記号で答えなさい。

	面積 (千km ²)	人口 (百万人)	GDP (名目) (億ドル)	輸出額 (億ドル)	輸入額 (億ドル)
①	4,486	654	29,715	14,330	14,197
②	4,374	512	187,758	59,939	57,471
③	21,783	490	235,162	25,626	35,203

〔「世界国勢図会2020/21」より作成〕

- ア ①－ASEAN ②－EU ③－NAFTA
 イ ①－NAFTA ②－EU ③－ASEAN
 ウ ①－EU ②－ASEAN ③－NAFTA
 エ ①－NAFTA ②－ASEAN ③－EU
 オ ①－EU ②－NAFTA ③－ASEAN
 カ ①－ASEAN ②－NAFTA ③－EU

問8 H班のテーマに関して、次の各問いに答えなさい。

- (1) 次の資料は、H班がテーマについて説明するために使用した資料である。資料中の に入る語を、アルファベットの略称で答えなさい。

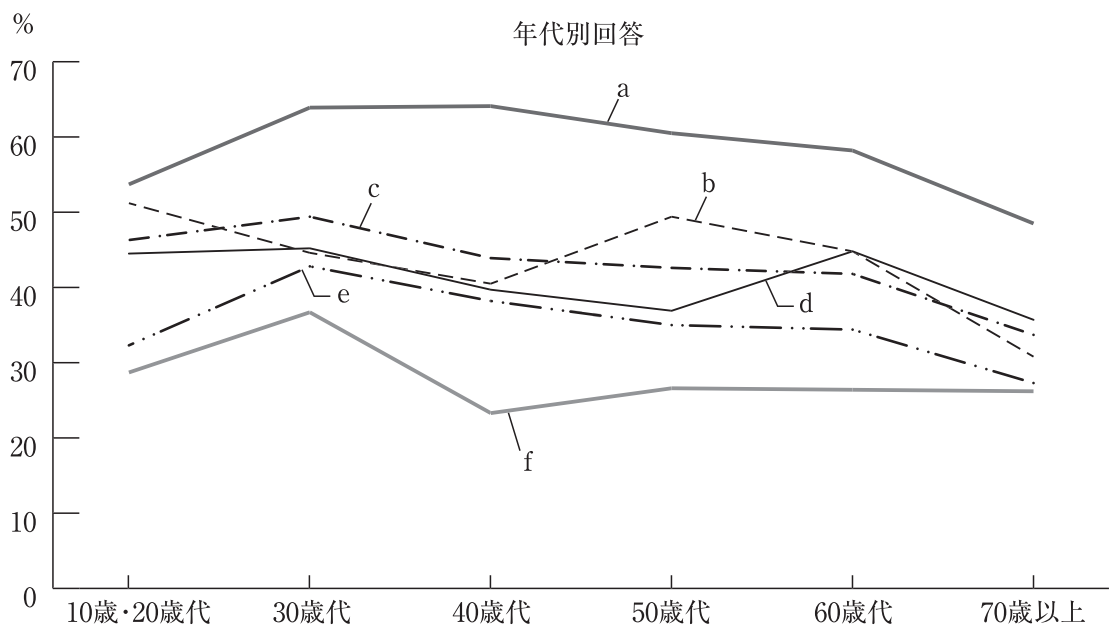
青年海外協力隊は、日本などの先進国政府が発展途上国を支援する の一つで、教育、福祉、農村開発などさまざまな分野で途上国にボランティアを派遣するものである。

(2) 次の資料は、H班がテーマについて詳しく説明するために使用した、内閣府が2018年に実施した「外交に関する世論調査（18歳以上を調査対象）」における「日本が対外政策で重点を置くべき部分は何だと思うか」という質問に対する結果をまとめたものである。この資料から読み取れる内容として誤っているものを、あとのア～エから一つ選び、記号で答えなさい。

【回答項目】
a：エネルギー・鉱物資源の確保
b：貿易・投資の自由化の推進
c：海外における日本企業の活動の支援
d：食料の確保
e：日本ブランド
f：日本への観光の促進

【結果（複数回答可）】

回答	a (%)	b (%)	c (%)	d (%)	e (%)	f (%)
全体	56.9	41.5	41.2	40.1	33.8	27.2



(内閣府のホームページより作成)

- ア 全体で一番回答数が多い項目は、すべての年代において回答数が多い。
- イ 全体で2番目に回答数が少ない項目は、30歳代でも2番目に回答数が少ない。
- ウ 70歳代で解答数が一番少ない項目は、全体においても回答数が一番少ない。
- エ 40歳代で2番目に回答数が多い項目は、全体でも2番目に回答数が多い。

A日程

解答用紙〔社会〕

*印の欄は記入しないこと。

第一問

問1	現象				問2	問3			
問4					問5	問6		県	
問7					問8	問9			
問10	(1)			(2)	問11	(1)		(2)	
問12	(1)	X :	Y :	(2)					
問13	(1)	8月	日	午前	時	(2)			
			午後						

小計 * _____

第二問

問1	(1)				(2)		
問2	(1)	(2)			(3)	問3	
問4	(1)	(2)			問5		
問6	(1)	(2)		問7	(1)	(2)	
問8	(1)	(2)					
問9	(1)	(2)					

小計 * _____

第三問

問1	(1)				(2)			問2	(1)			(2)		
問3	(1)					つ	(2)			(政府)				
問4	(1)	(2)												
問5	(1)	(2)												
問6	(1)	(2)												
問7	(1)					(2)								
問8	(1)					(2)								

小計 * _____

受験番号		得点	*
------	--	----	---

A日程

解答用紙〔社会〕

*印の欄は記入しないこと。

第一問

問1	ドーナツ化現象	問2	3	問3	ア
問4	ラムサール	問5	ウ	問6	静岡県
問7	カルデラ	問8	ア	問9	エ
問10	(1) 永久凍土 (2) ウ	問11	(1) イ (2) カ		
問12	(1) X: エ Y: イ (2)	露天掘り			
問13	(1) 8月 3日 (午前午後) 7時 (2)	バイオエタノール			

小計 * _____

第二問

問1	(1) 邪馬台国 (2) ウ		
問2	(1) イ (2) 壱田永年私財法 (3) ウ	問3	イ
問4	(1) ア (2) 下剋上	問5	ア
問6	(1) イ (2) ウ	問7	(1) エ (2) ウ
問8	(1) イ (2) 全国水平社		
問9	(1) ウ (2) ソビエト社会主義共和国連邦(ソ連)		

小計 * _____

第三問

問1	(1) (フランス)人権宣言 (2) 平等	問2	(1) 効率 (2) イ
問3	(1) 2 (2) 大きな (政府)		
問4	(1) ア (2) 法テラス		
問5	(1) ウ (2) クーリング・オフ		
問6	(1) ア (2) 累進課税		
問7	(1) ブロック経済 (2) ア		
問8	(1) ODA (2) エ		

小計 * _____

受験番号		得点	*
------	--	----	---