

2022年度

尚絅学院高等学校  
入学試験問題

社 会

試験時間 (50分)

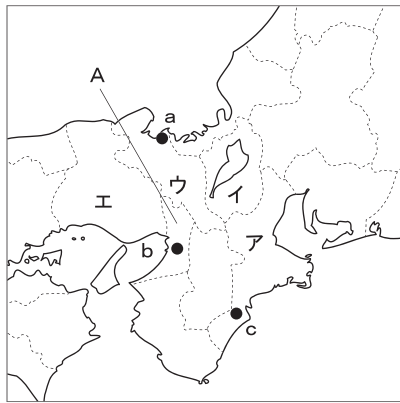
注 意 事 項

1. 「始め」の合図があるまで問題の表紙を開かないでください。
2. 解答用紙には決められた欄に受験番号のみ記入し、氏名は書かないでください。
3. 解答は必ず解答用紙のそれぞれ決められた欄に記入してください。
4. 印刷が見えにくい場合は、手をあげて監督者の指示に従ってください。
5. 考査が終わったら、解答用紙と問題用紙を別々にしておいてください。
6. その他すべて、監督者の指示に従ってください。

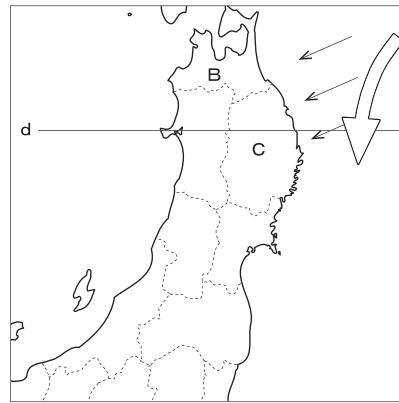
受験番号

第一問

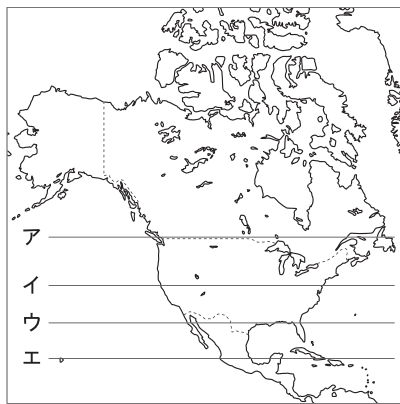
あきひろさんは冬休みの課題で、次の〔地図1〕～〔地図4〕で表された国内外の各地域および国々について、調べました。あとの各問いに答えなさい。ただし、それぞれの縮尺は異なるものとする。



〔地図1〕



〔地図2〕



〔地図3〕



〔地図4〕

問1 〔地図1〕に関して、次の各問いに答えなさい。

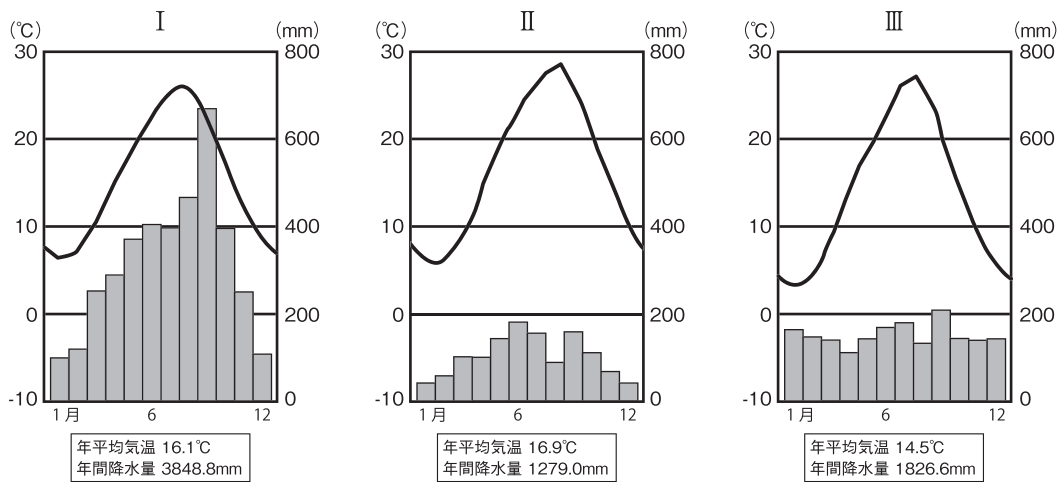
(1) 次の文は、あきひろさんが近畿地方のある府県の特徴と歴史について説明するために作成したメモである。このメモにあてはまる府県の位置を〔地図1〕中のア～エから一つ選び、記号で答え、さらにその府県名を漢字で答えなさい。

- ・府県名と府県庁所在地名が異なる。
- ・府県内に世界遺産の構成資産がある。
- ・府県内に東海道新幹線が走っている。

(2) 次の文は、あきひろさんが〔地図1〕中のAで示した府県について説明するために作成したメモである。この文中の  にあてはまる語を答えなさい。

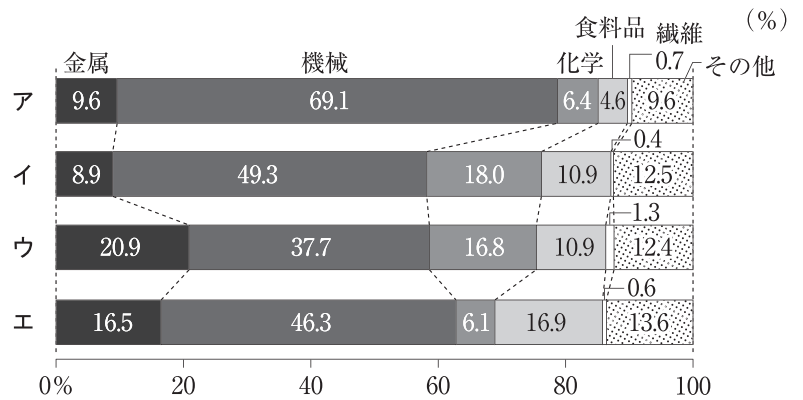
Aの府県は江戸時代に各地から運びこまれる物資の取引で栄え、日本の商業の中心地となっていた。江戸が「将軍のおひざもと」といわれていたのに対して、Aの府県は  といわれていた。

- (3) 次の雨温図は、〔地図1〕中のa, b, cのものである。それぞれの地点にあてはまるものの組み合わせとして正しいものを、あとのア～カから一つ選び、記号で答えなさい。



- ア a-I b-II c-III    イ a-I b-III c-II    ウ a-II b-I c-III  
 エ a-II b-III c-I    オ a-III b-I c-II    カ a-III b-II c-I

- (4) 右のア～エのグラフは、京浜工業地帯、中京工業地帯、北九州工業地帯（工業地帯）と〔地図1〕中の阪神工業地帯の工業製品出荷額およびその構成（2018年）を示したものである。阪神工業地帯を示すものを選び、記号で答えなさい。



〔日本国勢図会2021/22〕より作成

問2 〔地図2〕に関して、次の各問いに答えなさい。

- (1) 次の文は、あきひろさんが〔地図2〕中の→で示した風について説明するための作成したメモである。この文中の□に入る語を答えなさい。

この風は6～8月ごろにふく冷たく湿った風で、□と呼ばれます。

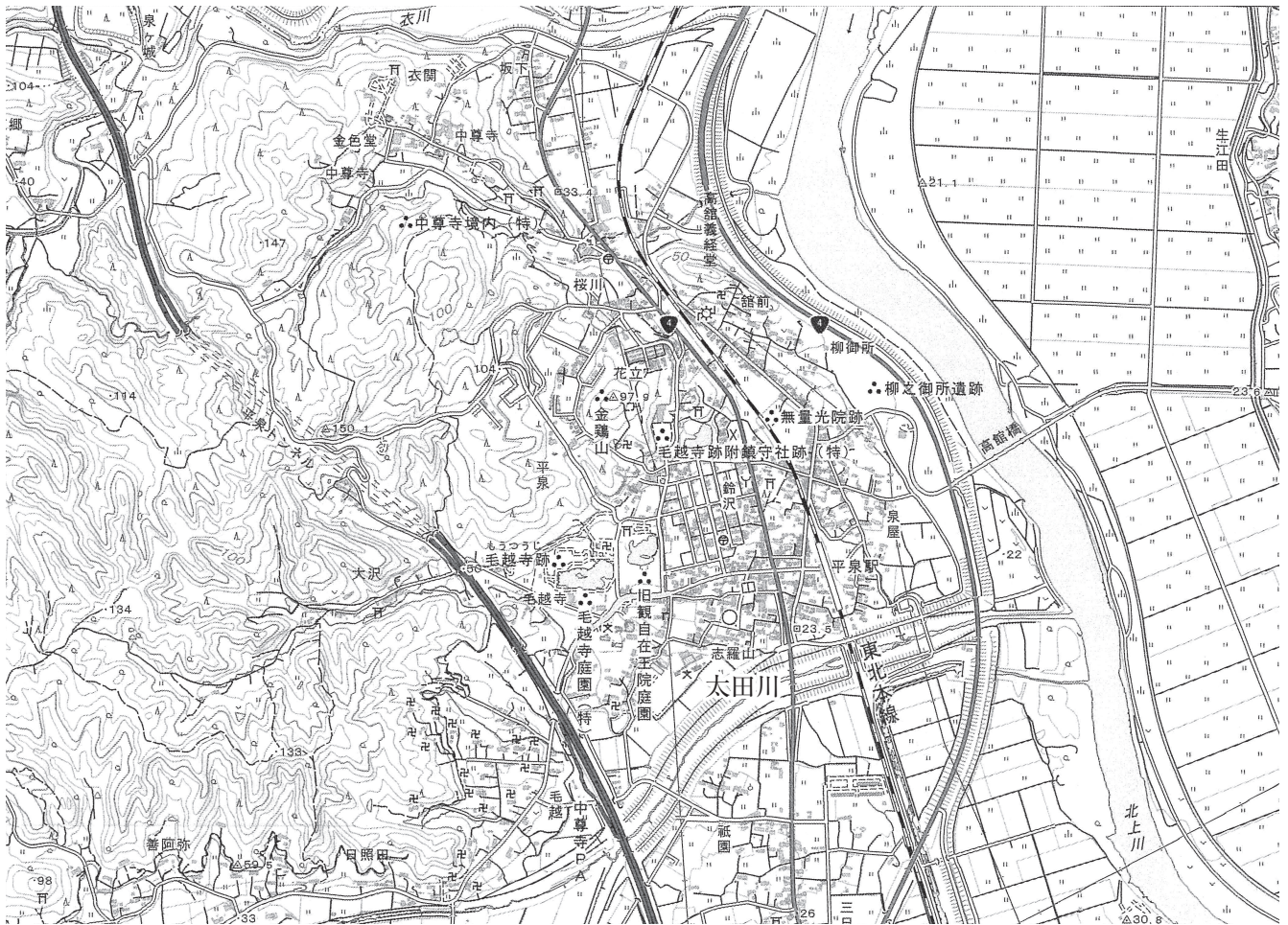
- (2) 次のI, IIの各文は〔地図2〕中のBで示した県について述べたものである。I, IIの文の正誤の組み合わせとして正しいものを、あとのア～エから一つ選び、記号で答えなさい。

I この県の県庁所在地で8月に開催される<sup>かんとう</sup>竿燈まつりは東北三大祭りの一つである。  
 II 津軽塗はこの県の伝統的工芸品である。

- ア I-正 II-正    イ I-正 II-誤    ウ I-誤 II-正    エ I-誤 II-誤

- (3) 〔地図2〕中の⇨は東北地方の沖を流れる海流である。その海流の名称を漢字で答えなさい。

(4) 次の地形図は、〔地図2〕のC県に位置する平泉の地形図（国土地理院発行の2万5千分の1地形図）である。この地形図の説明として誤っているものを、あとのア～エから一つ選び、記号で答えなさい。



- ア 北上川にかかる高館橋は平泉駅から見て北東方向にある。
- イ 太田川は南の方向から東の方角へと流れ、北上川と合流している。
- ウ 平泉トンネルの実際の距離は1.1kmなので、この地図上では2.2cmで表される。
- エ 平泉駅から旧観自在王院庭園まで向かう広い道路を西の方角に沿って道なりに進むとき、途中の左手側に図書館がある。



問3 アメリカ合衆国周辺を表した〔地図3〕に関して、次の各問いに答えなさい。

(1) 〔地図2〕中のdで示した緯線と同じ緯度を示す緯線を、〔地図3〕中のア～エから一つ選び、記号で答えなさい。

(2) 次のⅠ、Ⅱの各文は、〔地図3〕中のアメリカ合衆国について述べたものである。Ⅰ、Ⅱの文の正誤の組み合わせとして正しいものを、あとのア～エから一つ選び、記号で答えなさい。

- Ⅰ 太平洋側になだらかなロッキー山脈が、大西洋側にけわしいアパラチア山脈がある。  
Ⅱ ロッキー山脈とアパラチア山脈の間に、西から東にかけて順に中央平原、プレーリー、グレートプレーンズと並んでいる。

ア Ⅰ－正 Ⅱ－正    イ Ⅰ－正 Ⅱ－誤    ウ Ⅰ－誤 Ⅱ－正    エ Ⅰ－誤 Ⅱ－誤

(3) 次の文は、あきひろさんがアメリカ合衆国の歴史について説明するために作成したメモである。文中の□にあてはまる語を漢字で答えなさい。

アメリカ合衆国では自由貿易や奴隷制をめぐる対立から国が二つに分裂し、1861年に□が始まった。

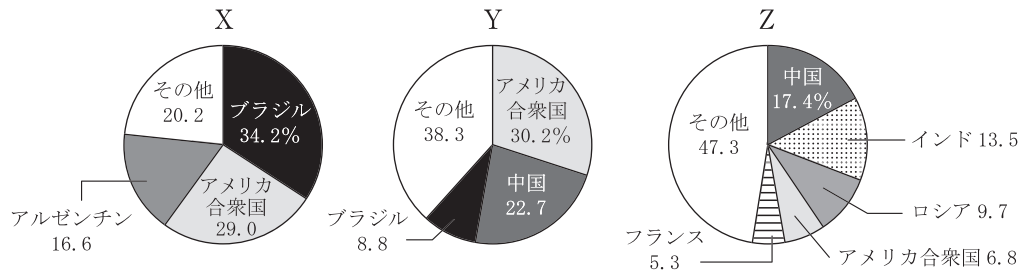
(4) 次の文は、あきひろさんがアメリカ合衆国と日本の時差を説明するために作成したものである。文中の□にあてはまる経度を、東経・西経のいずれかに○を付けて答えなさい。なお、サマータイムは考えないものとする。

日本が2月14日午前10時のとき、アメリカ合衆国のロサンゼルスは2月13日午後5時である。このことからロサンゼルスの標準時子午線は□度であることがわかる。

(5) 次の文は、あきひろさんが現在のアメリカ合衆国の社会を説明するために使用したメモである。文中の□にあてはまる語をカタカナで答えなさい。

アメリカ合衆国は現在でも多くの移民を受け入れている。その中でメキシコ、中央アメリカや西インド諸島の国々からやってきたスペイン語を話す移民は□と呼ばれる。

(6) 次のグラフは、アメリカ合衆国で生産の多い、大豆、とうもろこし、小麦の生産量と国別割合（2019年）を示したものである。それぞれのグラフと農産物の組み合わせとして正しいものをあとのア～カから一つ選び、記号で答えなさい。



〔世界国勢図会 2021/22〕より作成

- |   |          |          |          |
|---|----------|----------|----------|
| ア | X-大豆     | Y-とうもろこし | Z-小麦     |
| イ | X-大豆     | Y-小麦     | Z-とうもろこし |
| ウ | X-小麦     | Y-とうもろこし | Z-大豆     |
| エ | X-小麦     | Y-大豆     | Z-とうもろこし |
| オ | X-とうもろこし | Y-小麦     | Z-大豆     |
| カ | X-とうもろこし | Y-大豆     | Z-小麦     |

問4 南アメリカ大陸を表した〔地図4〕に関して、次の各問いに答えなさい。

(1) 次の資料は、あきひろさんが南アメリカ大陸の気候について調べるために作成した大陸別の気候帯の割合（％）である。南アメリカ大陸を示したものを、表中のア～エから一つ選び、記号で答えなさい。

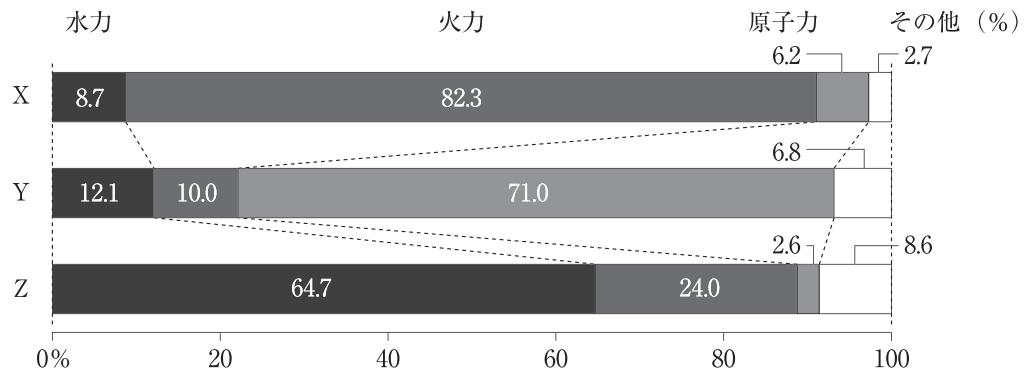
	ア	イ	ウ	エ	オーストラリア大陸	南極大陸
熱帯	7.4	5.2	38.6	63.4	16.9	0.0
乾燥帯	26.1	14.4	46.7	14.0	57.2	0.0
温帯	17.5	13.5	14.7	21.0	25.9	0.0
亜寒帯	39.2	43.4	0.0	0.0	0.0	0.0
寒帯	9.8	23.5	0.0	1.6	0.0	100.0

〔データブック オブ・ザ・ワールド2021〕より作成

(2) 次の文は、あきひろさんが南アメリカ大陸にあるブラジルで生産が盛んな燃料について説明するために作成したメモである。文中の  に入る地球環境問題の一つを漢字三字で答えなさい。

ブラジルではバイオ燃料を使って走る車が普及している。この燃料を使うと、 の原因となる硫黄酸化物や窒素酸化物などの酸性化合物の排出量をおさえられる。

(3) 次の資料は、あきひろさんが世界のエネルギー事情を説明するために作成した、ブラジル、日本、フランスの電源別発電量の内訳を示したグラフ（2018年）\*である。それぞれのグラフと国の組み合わせとして正しいものを、あとのア～カから一つ選び、記号で答えなさい。



\*小数点以下の処理により、合計が100%にならないものもある。

(「世界国勢図会2021/22」より作成)

- |   |        |        |        |
|---|--------|--------|--------|
| ア | X－日本   | Y－ブラジル | Z－フランス |
| イ | X－日本   | Y－フランス | Z－ブラジル |
| ウ | X－ブラジル | Y－日本   | Z－フランス |
| エ | X－ブラジル | Y－フランス | Z－日本   |
| オ | X－フランス | Y－日本   | Z－ブラジル |
| カ | X－フランス | Y－ブラジル | Z－日本   |

## 第二問

次の表は、2024年に新しい紙幣が発行されることに関連して花子さんのクラスで行われた「紙幣に描かれた人物と図柄」についての班別の調べ学習のテーマの一覧である。あとの問いに答えなさい。

表

	肖像・図柄	紙幣
a班	聖徳太子	一万円札
b班	藤原鎌足	二百円札
c班	紫式部	二千円札
d班	守礼門	二千円札
e班	二宮尊徳	一円札
f班	岩倉具視	五百円札
g班	新渡戸稲造	五千円札
h班	高橋是清	五十円札

問1 歴史学習における時代や年代のあらわし方についての説明として最も正しいものを、次のア～エから一つ選び、記号で答えなさい。

- ア 西暦はヨーロッパで考えられた年代のあらわし方で、紀元後は「B.C.」と表す。
- イ 世紀は西暦を100年単位にして年代を区切るもので、西暦300年は4世紀である。
- ウ 社会のしくみの特徴によって時代を大きく分けると、1972年は現代に区分される。
- エ 年号は元号ともいい、昭和時代からあとは、天皇一代に年号は一つと決められた。

問2 次の資料は、a班が調べた人物が定めたと思われる法令の一部である。この資料について、あとの各問いに答えなさい。

一に曰く、( A ) をもって貴しとなし、さからうことなきを宗とせよ。  
二に曰く、あつく三宝を敬え。三宝とは ( B ) ・法・僧なり。

(1) この法令の名称を答えなさい。

(2) 文中の ( A ), ( B ) に入る語の組み合わせとして正しいものを、次のア～エから一つ選び、記号で答えなさい。

- ア A - 和    B - 仏                      イ A - 詔    B - 仏
- ウ A - 和    B - 玉                      エ A - 詔    B - 玉



問3 次の文は、b班が肖像画の人物について調べて作成したメモである。このメモについて、あとの各問いに答えなさい。

・藤原（中臣）鎌足は中大兄皇子とともに蘇我氏をたおして新しい政治のしくみをつくる改革をはじめ、それまで豪族が支配していた土地と人民を国家が直接支配する方針を示した。  
 ・中大兄皇子は、を助けるために大軍を送った。

(1) メモ中の下線部の内容を表す語を、漢字四字で答えなさい。

(2) 右の地図は7世紀半ばの東アジアのものである。メモ中のの国の位置と国名の組み合わせとして正しいものを、次のア～エから一つ選び、記号で答えなさい。

- ア 位置－X 国名－新羅
- イ 位置－X 国名－百済
- ウ 位置－Y 国名－新羅
- エ 位置－Y 国名－百済



問4 c班が調べた内容について、次の各問いに答えなさい。

(1) 次の文は、c班が肖像画の人物について調べて作成したメモである。メモ中のA、Bに入る語の組み合わせとして正しいものを、あとのア～エから一つ選び、記号で答えなさい。

紫式部と同時代に活躍した清少納言は（ A ）で随筆集「枕草子」を書いた。（ A ）は漢字を変形させて日本語をあらわせるようにくふうした文字で、例えば漢字の「衣」が変化して、ひらがなの（ B ）が生まれた。

- ア A－仮名文字 B－い      イ A－仮名文字 B－え
- ウ A－万葉仮名 B－い      エ A－万葉仮名 B－え

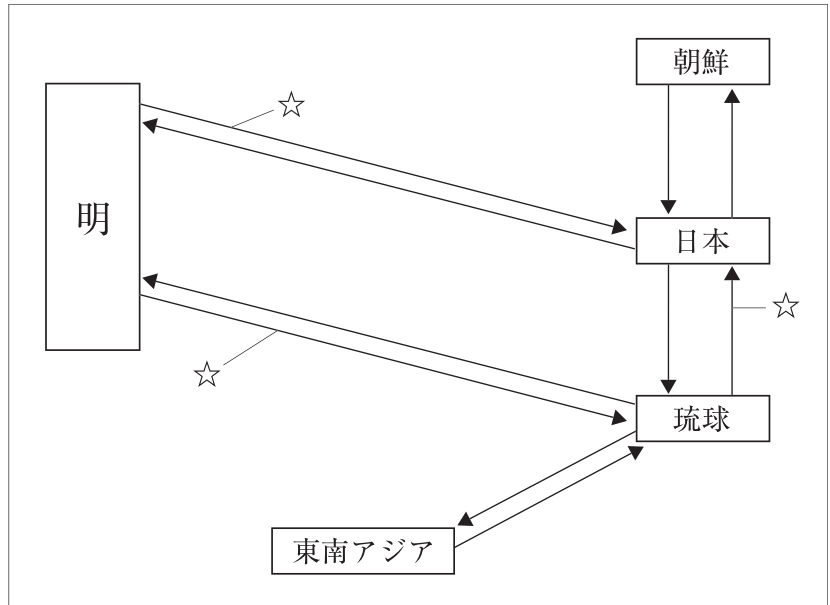
(2) この時代には藤原氏が摂関政治を行い、その栄華を誇った。次の歌をよんだのはだれか、漢字で答えなさい。

この世をば わが世とぞ思う 望月の 欠けたることも 無しと思えば

問5 d班が調べた内容について、次の各問いに答えなさい。

(1) 右の図は、守礼門を築いた琉球王国が当時行っていた貿易について説明するためにd班が作成したものである。図中の☆印は同じ貿易品があてはまる。その貿易品の名称を次のア～エから一つ選び、記号で答えなさい。

- ア 生糸      イ こしょう  
ウ 香木      エ 銅



(2) 琉球王国は15世紀に建国された。次のア～エの出来事のうち、15世紀の出来事の一つを選び、記号で答えなさい。

- ア ルターが宗教改革を始める。      イ イタリアでルネサンスが始まる。  
ウ コロンブスがアメリカ大陸に到達する。      エ 十字軍が始まる。

問6 e班が調べた内容について、次の各問いに答えなさい。

(1) 次の文は、e班が肖像画の人物が生きた時代について調べて作成したメモである。メモ中の [ ] にあてはまる人物を、漢字で答えなさい。

二宮尊徳は天明のききんが続く1787年に生まれました。その後もききんが度々発生し、ききんにより多くの餓死者が出るなかの1837年、もと大阪奉行所の役人であった [ ] は、奉行所の対応に不満をもち、弟子など300人ほどで大商人などをおそいました。

(2) メモ中の下線部の1787年に松平定信は寛政の改革に着手した。その内容として正しいものを、次のア～エから一つ選び、記号で答えなさい。

- ア 各地に倉を設けて、米をたくわえさせた。  
イ キリスト教に関係しないヨーロッパの書物の輸入を認めた。  
ウ 武士に質素・儉約を命じ、上げ米の制度を定めた。  
エ 営業を独占している株仲間に解散を命じた。

問7 f班が調べた内容について、次の各問いに答えなさい。

- (1) 次の文は、f班が肖像画の人物について調べて作成したメモである。このメモ中のA、Bに入る人名の組み合わせとして正しいものを、あとのア～エから一つ選び、記号で答えなさい。

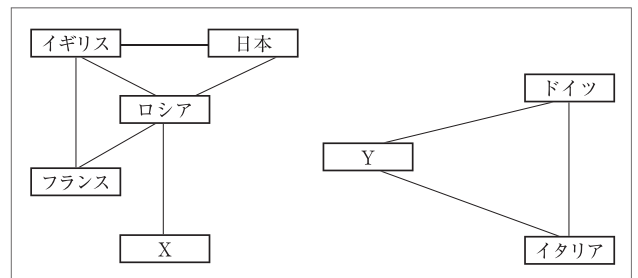
1871年、岩倉具視を全権大使とする岩倉使節団が欧米に派遣された。この使節団には（A）ら政府の有力者のほか、5人の女子留学生が参加した。このうち、最年少はのちに日本の女子教育の発展につくした（B）であった。

- ア A－西郷隆盛 B－平塚らいてう    イ A－西郷隆盛 B－津田梅子  
 ウ A－大久保利通 B－平塚らいてう    エ A－大久保利通 B－津田梅子

- (2) 岩倉使節団が出発した1871年にはドイツが統一され、プロイセン王がドイツ皇帝に即位した年である。このドイツ統一で活躍した宰相の名前を答えなさい。

問8 g班が調べた内容について、次の各問いに答えなさい。

- (1) 新渡戸稲造が国際連盟の事務局次長であったことを知ったg班は、国際連盟が創設されるきっかけの一つであった第一次世界大戦前の国際関係を右の図のように図式化した。図中のX、Yにあてはまる国名の組み合わせとして正しいものを、次のア～エから一つ選び、記号で答えなさい。



- ア X－オスマン帝国    Y－オーストリア＝ハンガリー帝国  
 イ X－オスマン帝国    Y－スペイン  
 ウ X－セルビア    Y－オーストリア＝ハンガリー帝国  
 エ X－セルビア    Y－スペイン

- (2) 新渡戸稲造が国際連盟事務局次長として活躍した時代、アジアでは民族運動が高まった。1919年の北京での学生運動をきっかけに中国国内で起こり、帝国主義に反対する国民運動へと発展した運動を何というか、答えなさい。

問9 h班が調べた内容について、次の各問いに答えなさい。

- (1) 高橋是清が仙台とゆかりがあったことを知ったh班は宮城県について調べ、次の文章をまとめた。文中の□にあてはまる語を、漢字四字で答えなさい。

宮城県の県庁所在地である仙台市は政令指定都市で、中央官庁の出先機関や大企業の支社、支店などが置かれることの多い、地方の中心となる□都市でもあります。

- (2) 高橋是清を肖像画とする紙幣は1951年に発行された。次のア～エの出来事のうち、1951年以降に起こったものを一つ選び、記号で答えなさい。

ア 中華人民共和国が成立した。      イ 朝鮮戦争が始まった。

ウ 教育基本法が制定された。      エ 自衛隊が発足した。



### 第 三 問

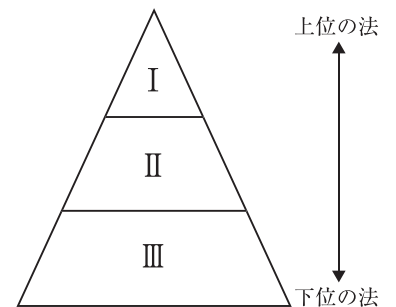
公民的分野に関する，あとの各問いに答えなさい。

問 1 文化の領域について述べた次の文中の（ A ）～（ C ）にあてはまる語の組み合わせとして正しいものを，あとのア～カから一つ選び，記号で答えなさい。

（ A ）はさまざまな技術を発展させ人々の暮らしを向上させてきました。（ B ）は，人間をこえた存在を信じることで，人間や世界に関する根本的な問いへの答えを見つけ出そうとする営みです。（ C ）は人生を豊かにするのに役立ちます。

- |   |        |        |        |
|---|--------|--------|--------|
| ア | A - 芸術 | B - 宗教 | C - 科学 |
| イ | A - 芸術 | B - 科学 | C - 宗教 |
| ウ | A - 宗教 | B - 芸術 | C - 科学 |
| エ | A - 宗教 | B - 科学 | C - 芸術 |
| オ | A - 科学 | B - 宗教 | C - 芸術 |
| カ | A - 科学 | B - 芸術 | C - 宗教 |

問 2 右の図は，法の構成を模式化したもので，より上位の法は，より強い効力をもつことを示している。図中のⅠ～Ⅲにあてはまる語の組み合わせとして正しいものを，次のア～カから一つ選び，記号で答えなさい。



- |   |           |           |           |
|---|-----------|-----------|-----------|
| ア | Ⅰ - 命令，規則 | Ⅱ - 憲法    | Ⅲ - 法律    |
| イ | Ⅰ - 命令，規則 | Ⅱ - 法律    | Ⅲ - 憲法    |
| ウ | Ⅰ - 憲法    | Ⅱ - 命令，規則 | Ⅲ - 法律    |
| エ | Ⅰ - 憲法    | Ⅱ - 法律    | Ⅲ - 命令，規則 |
| オ | Ⅰ - 法律    | Ⅱ - 憲法    | Ⅲ - 命令，規則 |
| カ | Ⅰ - 法律    | Ⅱ - 命令，規則 | Ⅲ - 憲法    |

問 3 次の文章を読んで，あとの各問いに答えなさい。

1945年8月，日本は前月に連合国が出した  を受け入れて降伏し，アジア太平洋戦争も含めた第二次世界大戦は終わりました。そして，日本は平和で民主的な政府をつくることとし，GHQが作成した草案を基に憲法改正案を起草し，この大日本帝国憲法の改正案は帝国議会で審議されました。

(1) 文中の  に入る語を答えなさい。

(2) 上記の文章中の下線部の内容についての記述として正しいものを，次のア～エから一つ選び，記号で答えなさい。

- ア 議会は二院制で，衆議院と枢密院から構成された。
- イ 軍隊の指揮，条約の締結は内閣の権限とされていた。
- ウ 予算や法律の制定には，議会の同意が必要とされていた。
- エ 国民は「臣民」とされ，自由権とともに社会権が保障されていた。

問4 次の文章は、当時の文部省が中学校1年生用につくった教科書「あたらしい憲法のはなし」の一部である。文中の（ ）に共通してあてはまる語を答えなさい。

国を治めてゆく力のことを（ ）とありますが、この力が全体にあれば、これを「（ ）は国民にある」といいます。

問5 次の文章は、司法制度改革に関する記述である。文中の（ ）にあてはまる語を、漢字二字で答えなさい。

2009年から司法制度改革の一環として、裁判員制度が始まりました。これは国民から選ばれた裁判員が（ ）裁判に参加し、裁判官と一緒に被告人の有罪・無罪や刑罰の内容を決める制度です。

問6 次の文章を読んで、あとの各問いに答えなさい。

・国会において、内閣が必要と認めた場合、または、いずれかの議院の総議員の4分の1以上の要求があった場合に召集される種類の国会を  という。  
 ・衆議院の優越が認められている。

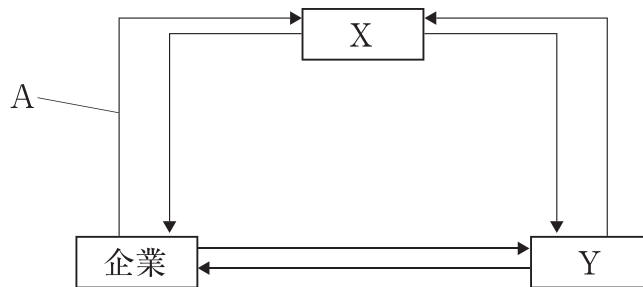
(1) 文中の  にあてはまる語を、漢字三字で答えなさい。

(2) 次のⅠ、Ⅱの文は、上記の文章中の下線部について述べたものである。Ⅰ、Ⅱの文の正誤の組み合わせとして正しいものを、あとのア～エから一つ選び、記号で答えなさい。

Ⅰ 衆議院の方が、任期が長く解散もないため、国民の意見とより結びついていると考えられるので、衆議院の優越が認められている。  
 Ⅱ 参議院が、衆議院の可決した法律を受け取った後、国会休会中を除いて60日以内に議決しないときは、衆議院は、参議院がその法律案を否決したものとみなすことができる。

- ア I - 正 II - 正    イ I - 正 II - 誤  
 ウ I - 誤 II - 正    エ I - 誤 II - 誤

問7 次の図は、国民経済と政府の関係について示したものである。X、Aにあてはまる語として正しい組み合わせを、あとのア～カから一つ選び、記号で答えなさい。

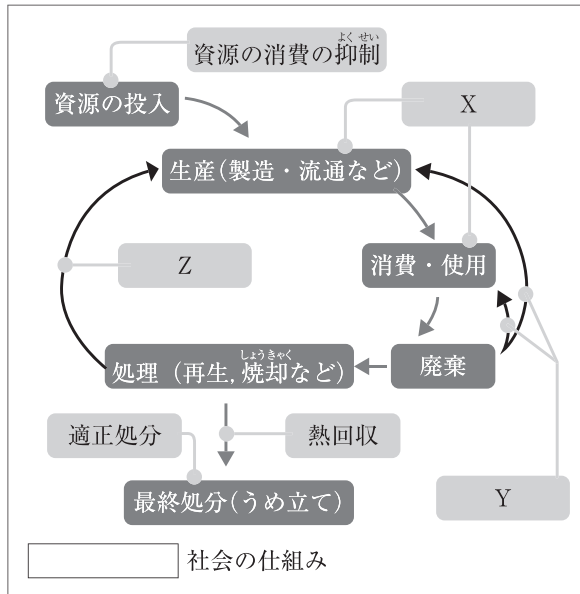


- ア X - 政府    A - 公共サービス    イ X - 政府    A - 賃金  
 ウ X - 政府    A - 補助金            エ X - 家計    A - 公共サービス  
 オ X - 家計    A - 賃金                      カ X - 家計    A - 補助金

問8 右の表は、日本の社会保障制度についてまとめたものである。表中のXにあてはまる社会保障制度の種類を、漢字四字で答えなさい。

種類	おもな仕事の内容
社会保険	医療保険 年金保険
X	生活保護
社会福祉	高齢者福祉 児童福祉
公衆衛生	感染症対策 公害対策

問9 環境省が作成した次の資料をみて、あとの問いに答えなさい。



(1) 資料中の  にあてはまる語を、漢字三字で答えなさい。

(2) 資料中のX～Zにあてはまる語として正しい組み合わせを、次のア～カから一つ選び、記号で答えなさい。

- |   |         |         |         |
|---|---------|---------|---------|
| ア | X－リサイクル | Y－リユース  | Z－リデュース |
| イ | X－リサイクル | Y－リデュース | Z－リユース  |
| ウ | X－リユース  | Y－リサイクル | Z－リデュース |
| エ | X－リユース  | Y－リデュース | Z－リサイクル |
| オ | X－リデュース | Y－リサイクル | Z－リユース  |
| カ | X－リデュース | Y－リユース  | Z－リサイクル |

問10 次の文章は、民族紛争に関する記述である。□にあてはまる語を、漢字二字で答えなさい。

民族紛争などを原因として、自国にいと迫害を受けるか、そのおそれがあるために他国に逃れた人々を□という。UNHCRはこの人々を保護するために活動している。

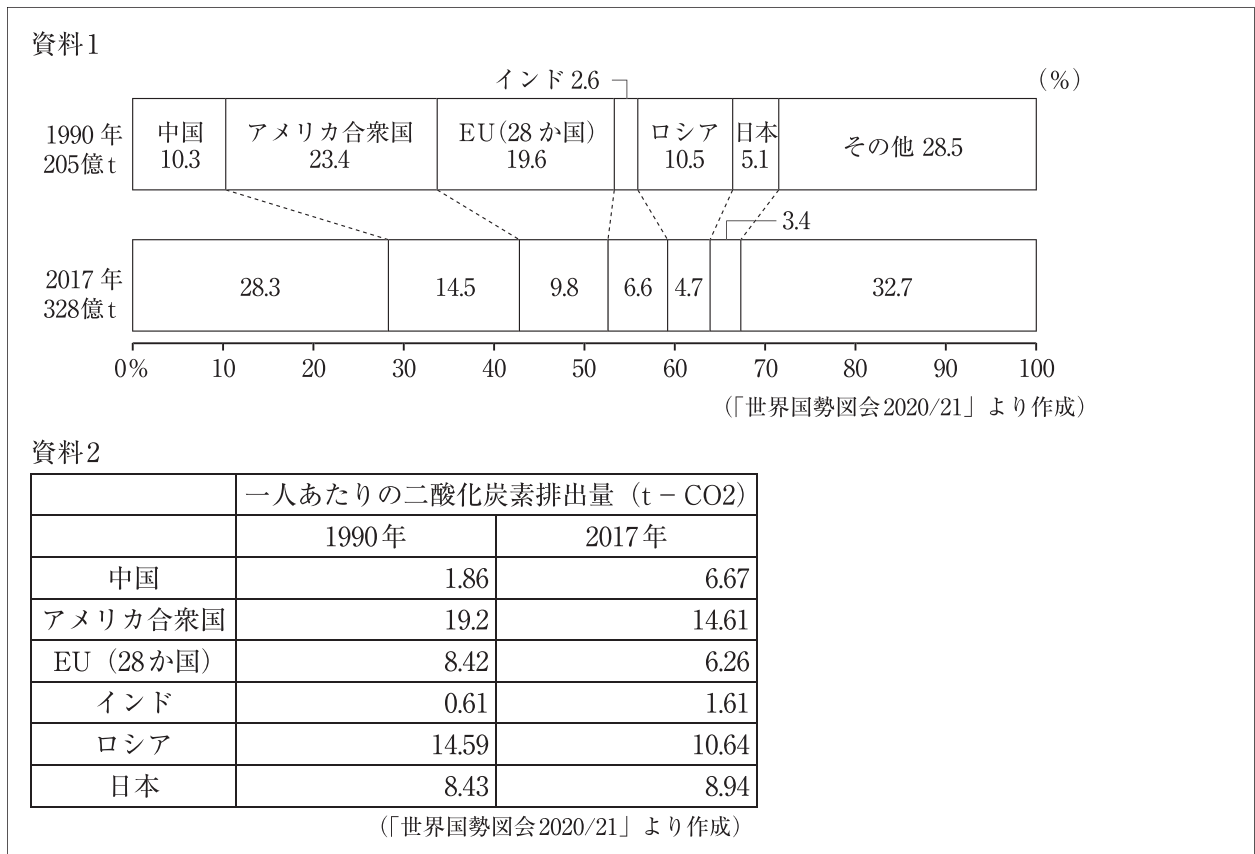
問11 次の文章は、国際社会における格差についての記述である。A、Bに入る語の組み合わせとして正しいものを、あとのア～エから一つ選び、記号で答えなさい。

近年では発展途上国の中にも新興国が現れ、このうち、ブラジル、ロシア、インド、中国、南アフリカの5か国は（ A ）と呼ばれている。またサハラ以南のアフリカなどの最貧国と、アジアの新興国や産油国などの国々との間で格差が広がる（ B ）が見られるようになっている。

- ア A - BRICS    B - 南北問題    イ A - BRICS    B - 南南問題  
ウ A - NIES    B - 南北問題    エ A - NIES    B - 南南問題



問12 次の資料は、世界のおもな国の二酸化炭素排出量割合（資料1）と一人あたりの二酸化炭素排出量の変化（資料2）を示したものである。あとの問いに答えなさい。



- (1) 1997年に日本で開催された国際会議で採択された、2008～12年に1990年に比べて5%以上二酸化炭素排出量を削減することを定めた取り決めを何というか、漢字五字で答えなさい。
- (2) 上記資料1、資料2から読み取れる内容として誤っているものを、次のア～エから一つ選び、記号で答えなさい。
- ア 日本の2017年の排出量割合は1990年に比べ減っているが、一人あたりの排出量は増加している。
  - イ 表中の国のうち、南アジアの国の2017年の排出量割合は1990年の2倍以上に増え、一人あたりの排出量は1990年の3倍以上に増えている。
  - ウ 1990年に排出量割合が4番目に大きかった国の2017年の排出量は、表中の国の中で一番多い。
  - エ 表中の国のうち、世界で一番国土面積が大きい国は、2017年は1990年と比べて排出量も、一人あたりの排出量も減少している。

# B日程

## 解答用紙〔社会〕

\*印の欄は記入しないこと。

### 第一問

問1	(1) 記号：	府県名：		
	(2)	(3)	(4)	
問2	(1)	(2)	(3)	(4)
問3	(1)	(2)	(3)	
	(4) 東経・西経	度	(5)	(6)
問4	(1)	(2)	(3)	

小計 \* \_\_\_\_\_

### 第二問

問1		問2 (1)	(2)
問3 (1)		(2)	問4 (1) (2)
問5 (1)	(2)	問6 (1)	(2)
問7 (1)	(2)	問8 (1)	(2)
問9 (1)		(2)	

小計 \* \_\_\_\_\_

### 第三問

問1		問2	
問3 (1)		(2)	
問4		問5	
問6 (1)		(2)	
問7		問8	
問9 (1)		(2)	
問10		問11	
問12 (1)		(2)	

小計 \* \_\_\_\_\_

受験番号		得点	*
------	--	----	---

**B日程**

**解答用紙〔社会〕**

\*印の欄は記入しないこと。

第一問

問1	(1) 記号: <b>イ</b>	府県名: <b>滋賀県</b>				
	(2) <b>天下の台所</b>	(3) <b>カ</b>	(4) <b>ウ</b>			
問2	(1) <b>やませ</b>	(2) <b>ウ</b>	(3) <b>親潮 (千島海流)</b>	(4) <b>ウ</b>		
	(1) <b>イ</b>	(2) <b>エ</b>	(3) <b>南北戦争</b>			
問3	(4) 東経・ <b>西経</b> <b>120</b> 度	(5) <b>ヒスパニック</b>	(6) <b>ア</b>			
	(1) <b>エ</b>	(2) <b>酸性雨</b>	(3) <b>イ</b>			

小計 \* \_\_\_\_\_

第二問

問1	<b>ウ</b>	問2 (1) <b>十七条の憲法</b>	(2) <b>ア</b>			
問3	(1) <b>公地公民</b>	(2) <b>エ</b>	問4 (1) <b>イ</b>	(2) <b>藤原道長</b>		
	(1) <b>ア</b>	(2) <b>ウ</b>	問6 (1) <b>大塩平八郎</b>	(2) <b>ア</b>		
問7	(1) <b>エ</b>	(2) <b>ビスマルク</b>	問8 (1) <b>ウ</b>	(2) <b>五・四運動</b>		
	(1) <b>地方中枢</b>	(2) <b>エ</b>				

小計 \* \_\_\_\_\_

第三問

問1	<b>オ</b>	問2	<b>エ</b>			
問3	(1) <b>ポツダム宣言</b>	(2) <b>ウ</b>				
	問4	<b>主権</b>	問5	<b>刑事</b>		
問6	(1) <b>臨時会</b>	(2) <b>ウ</b>				
	問7	<b>オ</b>	問8	<b>公的扶助</b>		
問9	(1) <b>循環型</b>	(2) <b>カ</b>				
	問10	<b>難民</b>	問11	<b>イ</b>		
問12	(1) <b>京都議定書</b>	(2) <b>イ</b>				

小計 \* \_\_\_\_\_

受験番号		得点	*
------	--	----	---